

Europa, Ásia e Oceania: localização e regionalização

9º ANO

Aula 1 – 4º bimestre





Conteúdo

- Localização e regionalização da Europa;
- Localização e regionalização da Ásia;
- Localização e regionalização da Oceania;



Objetivos

- Interpretar mapas e imagens associadas a Europa, Ásia e Oceania;
- Reconhecer a localização e principais características da Europa, da Ásia e da Oceania;



Para começar

De surpresa!



5 minutos

1. Localize na imagem 1 o continente europeu, asiático e oceânico.
2. Observe atentamente os vídeos a seguir. O que cada vídeo retrata? Em que país se localizam?
3. A qual dos continentes cada um dos vídeos pertence?

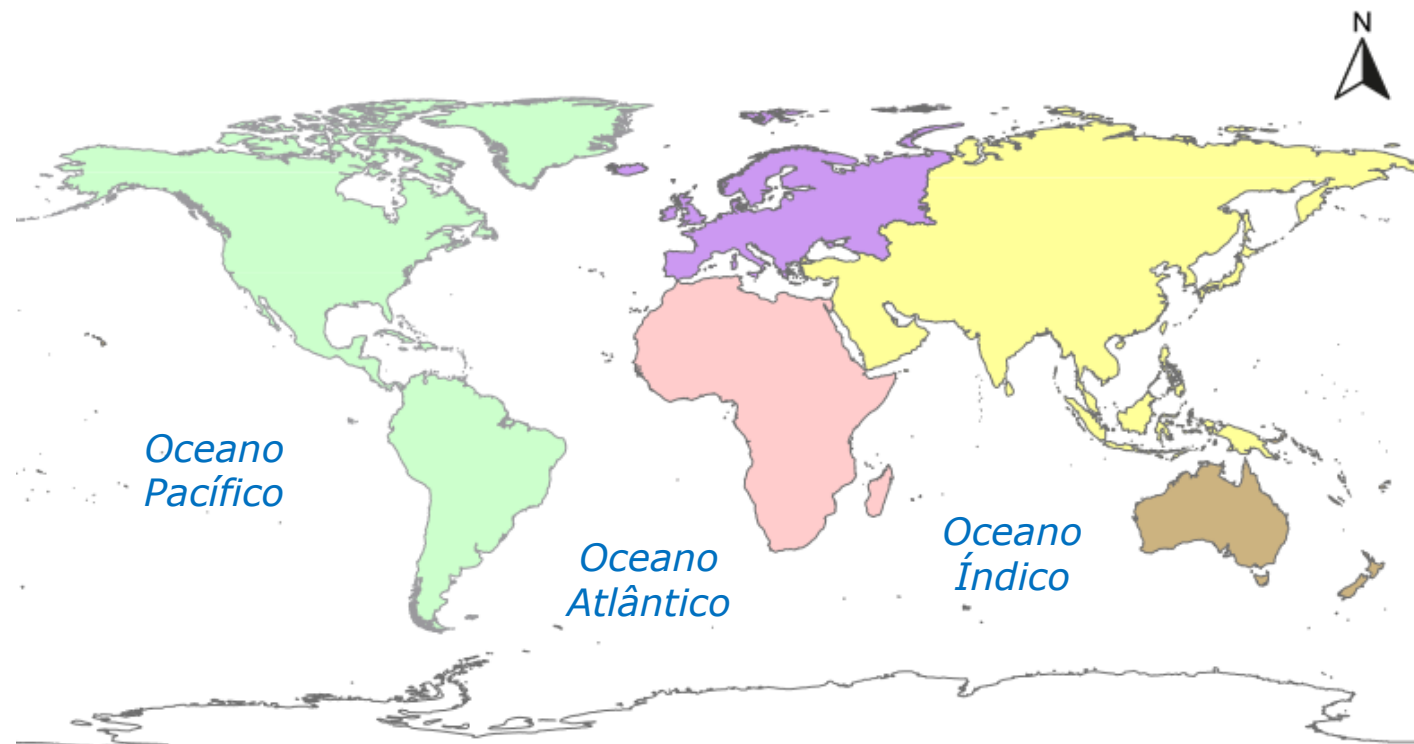


Imagem 1 – Divisão dos continentes




Para começar



Vídeo 1



Vídeo 2



Vídeo 3





Para começar *Correção*

1.

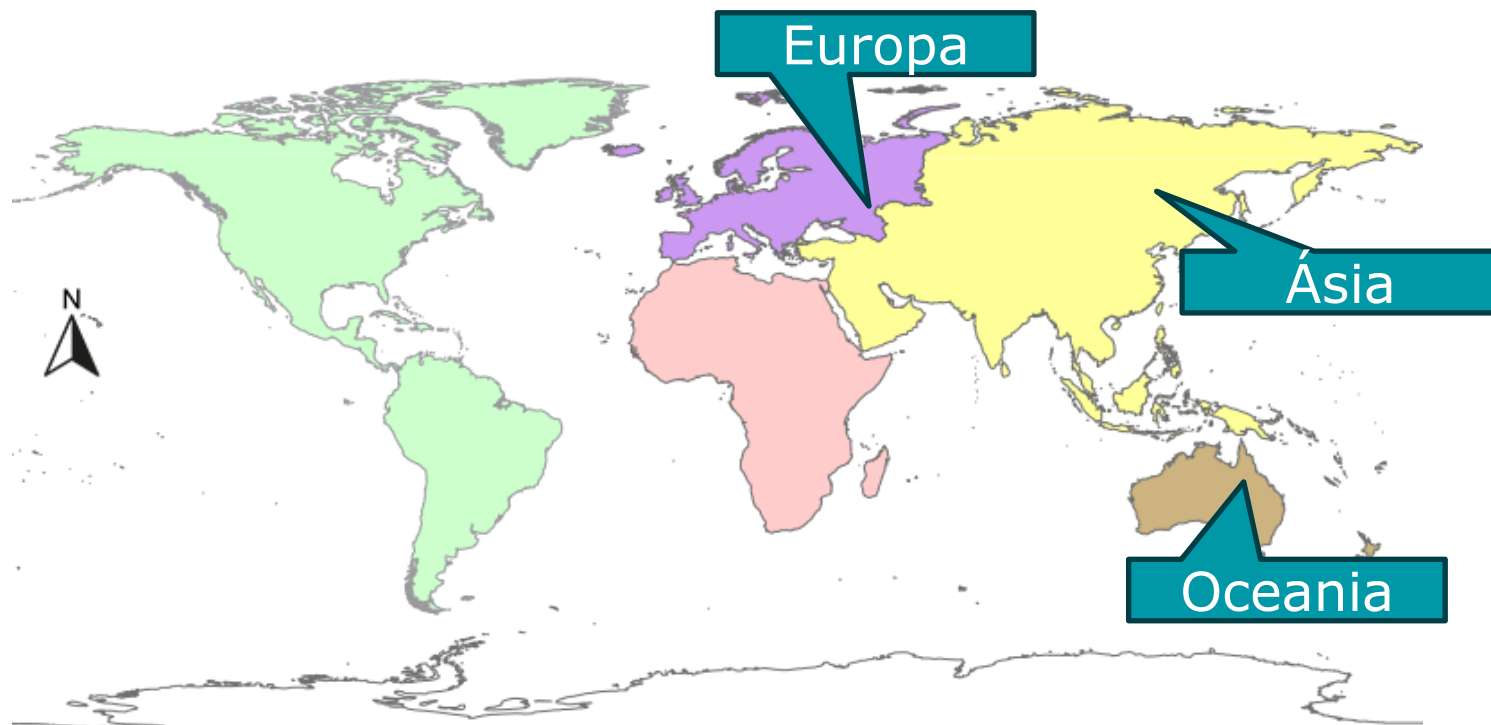


Imagem 1 – Divisão dos continentes

- 2 e 3. Vídeo 1 – Muralha da China, na China localizada na Ásia;**
Vídeo 2 – Tower Bridge de Londres, na Inglaterra localizada na Europa;
Vídeo 3 – Opera House, na Austrália, localizada na Oceania;



Foco no conteúdo

Europa

- **Área:** 10,5 milhões de km² (segundo menor continente do planeta Terra)
- **Países:** 50, dentre eles, Alemanha, Reino Unido, Itália, França e Portugal.
- Conhecida também como **Península da Ásia**, a Europa nada mais é do que o prolongamento do continente asiático. Esse dois continentes juntos formam um único bloco de terra: a **Eurásia**.
- Em relação às características culturais, históricas e econômicas, podemos dividir a Europa em duas grandes regiões: **Europa Ocidental** (formada por países capitalistas de economia forte) e **Europa Oriental** (formada por antigos países socialistas menos industrializados).



Na prática

Levante a mão quem quiser responder!



5 minutos

Eurásia

A divisão da Eurásia em dois continentes explica-se por questões histórico-culturais, sendo os montes Urais e o Mar Cáspio o limite natural entre a Ásia e a Europa. Observe o mapa 1 referente ao continente europeu e aponte quais países apresentam parte de seu território dividido entre a Ásia e a Europa.

Europa - Político



Fonte: Map resources grenier International collection, Lambertville: Map Resources, (2005).
Nota: Em 17 de fevereiro de 2008, a província do Kosovo declarou unilateralmente sua independência da Sérvia. Esta situação ainda está em processo de reconhecimento.



Mapa 1 – Europa - Político



Na prática Correção

A Rússia e a Turquia são considerados países transcontinentais, ou seja, possuem parte de seu território localizado em dois continentes: a Europa e a Ásia.



Foco no conteúdo

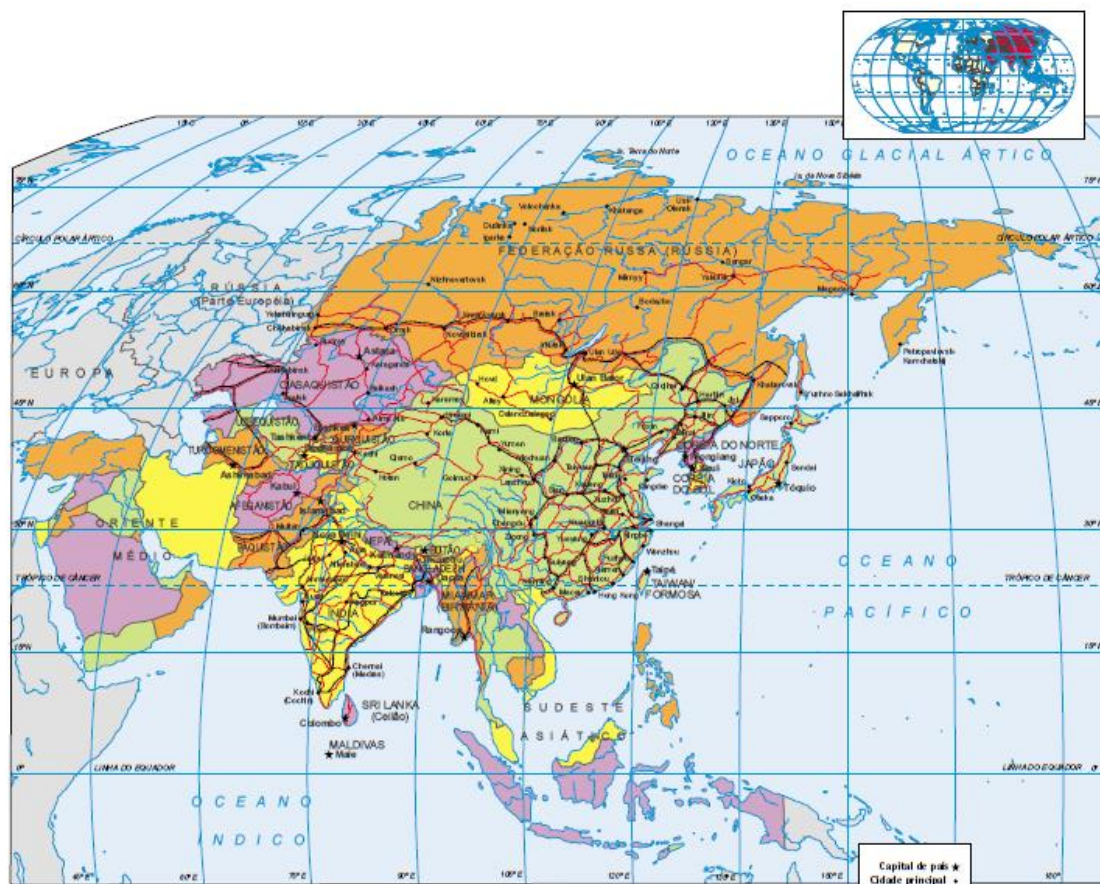
Ásia

- **Área:** 45 milhões de km² (maior continente do planeta Terra).
- **Países:** 49, entre eles, Japão, China, Índia e parte asiática da Rússia.
- Em relação às características culturais, históricas e geográficas, podemos dividir a Ásia em 6 grandes regiões: extremo oriente, sul da Ásia, sudeste asiático, Ásia setentrional, Ásia central e Oriente Médio.



Foco no conteúdo

Fonte: Map resources greater international collection, Lambertville, Map Resources, 2003.



Ásia - Político

Mapa 2 – Ásia - Político



Na prática

Puxe mais!



5 minutos

Localização da Ásia

1. Analise o mapa 2 (Ásia – Político) e indique os limites territoriais do continente asiático.
2. Pesquise duas imagens de localidades asiáticas e compartilhe com a sala.



Na prática *Correção*

1. A Ásia faz limite com:

- **Ao norte: Oceano glacial Ártico.**
- **Ao sul: Oceano Índico.**
- **A leste: Oceano Pacífico.**
- **A oeste: continente europeu, Montes Urais, Mar Cáspio, Mar Vermelho, Mar Negro e Mar Mediterrâneo.**

*Imagem 2 –
Astana,
Cazaquistão*



*Imagem 3 –
Phuket,
Tailândia*



Foco no conteúdo

Oceania

- **Área:** 8,5 milhões de km² (menor continente do planeta Terra).
- **Países:** Austrália, Nova Zelândia, Papua-Nova Guiné e um conjunto de ilhas localizadas no Oceano Pacífico.
- A Austrália é o único país da Oceania com características continentais.
- A porção insular do continente pode ser agrupada em três regiões: Melanésia, Polinésia e Micronésia.



Na prática

Todo mundo escreve!



8 minutos

Melanésia, Micronésia e Polinésia

1. Em grupos, escolha uma das três regiões em que se pode dividir a porção insular da Oceania.

Melanésia – Micronésia – Polinésia

2. Analise o mapa 3 (Oceania – Político) e indique pelo menos três países que compõem a região escolhida.

3. Por fim, pesquise o significado do nome da região insular escolhida.



*Imagem 4 – Ilhas Fiji,
Melanésia*



Na prática Correção

Melanésia – do grego: “Ilha dos negros”, devido ao tom de pele da população aborígene local. Refere-se ao conjunto de ilhas mais próximas da Austrália, estendendo-se da Papua-Nova Guiné à Nova Zelândia. Ex.: Ilhas Salomão, República da Vanuatu e República das Ilhas Fiji.

Micronésia – do grego: “Pequenas ilhas”, localizadas na porção norte do continente, são formadas por mais de 2.500 ilhas coralíneas e vulcânicas. Ex.: Palau, Kiribati e Ilhas Marshall.

Polinésia – do grego: “Muitas ilhas”, localizadas na porção oriental do continente, abrange milhares de ilhas delimitadas pela Nova Zelândia, Ilhas Midway e Ilha de Páscoa. Ex.: Samoa, Polinésia Francesa e Havaí.



Aplicando

Mostre-me!



5 minutos

1. Analise as frases a seguir e associe-as com o continente correspondente, inserindo "O" para Oceania, "A" para Ásia e "E" para Europa.
 - () É considerado o menor continente do planeta.
 - () Conhecido também como a "península da Ásia".
 - () Considerado o maior continente do mundo.
 - () Pode ser dividido em porção insular e porção continental.
 - () Uma de suas regiões é o Oriente Médio.
 - () De acordo com as características socioeconômicas, podemos dividir esse continente em países ocidentais e países orientais.



Aplicando Correção

1. Analise as frases a seguir e associe-as com o continente correspondente, inserindo "O" para Oceania, "A" para Ásia e "E" para Europa.
 - (**O**) É considerado o menor continente do planeta.
 - (**E**) Conhecido também como a "península da Ásia".
 - (**A**) Considerado o maior continente do mundo.
 - (**O**) Pode ser dividido em porção insular e porção continental.
 - (**A**) Uma de suas regiões é o Oriente Médio.
 - (**E**) De acordo com as características socioeconômicas, podemos dividir esse continente em países ocidentais e países orientais.



O que aprendemos hoje?

- Nesta aula, você conheceu um pouco mais sobre a Europa, a Ásia e a Oceania. Preencha o quadro indicando o que você aprendeu sobre cada um desses continentes:

Europa	
Ásia	
Oceania	



Tarefa SP

Localizador: 101220

1. Professor, para visualizar a tarefa da aula, acesse com seu login: tarefas.cmsp.educacao.sp.gov.br
2. Clique em "Atividades" e, em seguida, em "Modelos".
3. Em "Buscar por", selecione a opção "Localizador".
4. Copie o localizador acima e cole no campo de busca.
5. Clique em "Procurar".

Videotutorial: <http://tarefasp.educacao.sp.gov.br/>



Referências

- ADAS, Melhem; ADAS, Sergio. Expedições Geográficas: 9º ano. 4. ed. São Paulo: Moderna, 2022.
- DELLORE, Cesar Brumini. Araribá conecta. Geografia 9º ano. São Paulo: Moderna, 2022.
- GARCIA, Valquiria; MARTINEZ, Rogério; GARCIA, Wanessa. SuperAÇÃO! Geografia: 9º ano. São Paulo: Moderna, 2022.
- LEMOV, Doug. Aula nota 10: 49 técnicas para ser um professor campeão de audiência. Tradução de Leda Beck. Consultoria e revisão técnica Guiomar N. de Mello e Paula Louzano. São Paulo: Da Prosa/Fundação Lemann, 2011.
- RIBEIRO, Wagner Costa. Por dentro da Geografia 9. 4. ed. São Paulo: Saraiva, 2018.
- TORREZANI, Neiva. Vontade de saber Geografia 9. São Paulo: Quinteto, 2018.



Referências

Lista de imagens e vídeos

Slides 3, 7, 11, 15 e 17 – Imagem gif. relógio. Fonte: Pixabay. Disponível em: <https://pixabay.com/pt/gifs/rel%C3%B3gio-rel%C3%B3gios-tempo-vezes-4109/>. Acesso em: 15 fev. 2023.

Slides 3 e 5 – Imagem 1: Divisão dos continentes. Fonte: IBGE adaptado. Disponível em: http://geoftp.ibge.gov.br/produtos_educacionais/mapas_mudos/mapas_do_mundo/continentes.pdf. Acesso em: 5 ago. 2023.



Referências

Lista de imagens e vídeos

Slide 4 – Vídeo 1: <https://pixabay.com/pt/videos/grande-muralha-muro-ru%C3%ADnas-torre-172545/>. Acesso em: 5 ago. 2023; Vídeo 2: <https://pixabay.com/pt/videos/ponte-da-torre-londres-inglaterra-33415/>. Acesso em: 5 ago. 2023; Vídeo 3: <https://pixabay.com/pt/videos/sydney-porto-porta-instant%C3%A2neo-13698/>. Acesso em: 5 ago. 2023.

Slides 7 – Mapa 1 – Europa – Político. Fonte: Atlas Geográfico Escolar IBGE. Disponível em: <https://biblioteca.ibge.gov.br/visualizacao/livros/liv101627.pdf>. Acesso em: 29 set. 2023.



Referências

Lista de imagens e vídeos

Slide 10 – Mapa 2 – Ásia – Político. Fonte: IBGE. Atlas Geográfico Escolar, 8ª edição. Rio de Janeiro: IBGE, 2018. P.47. Disponível em: <https://biblioteca.ibge.gov.br/visualizacao/livros/liv101627.pdf>. Acesso em: 16 ago. 2023.

Slide 12 – Imagem 2: Astana, Cazaquistão. Fonte: Getty Images. Disponível em: <https://www.gettyimages.com.br/detail/foto/astana-cityscape-imagem-royalty-free/527693069?phrase=cazaquistao>. Acesso em: 3 ago. 2023;



Referências

Lista de imagens e vídeos

Slide 12 – Imagem 3: Phuket, Tailândia. Fonte: Getty Images.

Disponível em: <https://www.gettyimages.com.br/detail/foto/thai-traditional-wooden-longtail-boat-and-imagem-royalty-free/1396081944?phrase=Tailandia&adppopup=true>. Acesso em: 3 ago. 2023.

Slide 13 – Mapa 3 – Oceania – Político. Fonte: IBGE. Atlas Geográfico Escolar, 8ª edição. Rio de Janeiro: IBGE, 2018. P. 47. Disponível

em: <https://biblioteca.ibge.gov.br/visualizacao/livros/liv101627.pdf>. Acesso em: 29 set. 2023.



Referências

Lista de imagens e vídeos

Slide 15 – Imagem 4: Ilhas Fiji, Melanésia. Fonte: Getty Images. Disponível em: <https://www.gettyimages.com.br/detail/foto/aerial-shot-of-turtle-island-imagem-royalty-free/148573966?phrase=ilhas+Fiji&adppopup=true>. Acesso em: 3 ago. 2023.

Material Digital

